



POLÍCIA CIVIL DO ESTADO DE SÃO PAULO
ACADEMIA DE POLÍCIA
SECRETARIA DE CONCURSOS PÚBLICOS

CONCURSO PÚBLICO

001. PROVA PREAMBULAR

ESCRIVÃO DE POLÍCIA

- ◆ Você recebeu sua folha de respostas e este caderno contendo 80 questões objetivas.
- ◆ Confira seus dados impressos na capa deste caderno e na folha de respostas.
- ◆ Quando for permitido abrir o caderno, verifique se está completo ou se apresenta imperfeições. Caso haja algum problema, informe ao fiscal da sala para a devida substituição desse caderno.
- ◆ Leia cuidadosamente todas as questões e escolha a resposta que você considera correta.
- ◆ Marque, na folha de respostas, com caneta de tinta preta, a letra correspondente à alternativa que você escolheu.
- ◆ A duração da prova é de 4 horas, já incluído o tempo para o preenchimento da folha de respostas.
- ◆ Só será permitida a saída definitiva da sala e do prédio após transcorridas 2 horas do início da prova.
- ◆ Deverão permanecer em cada uma das salas de prova os 3 últimos candidatos, até que o último deles entregue sua prova, assinando termo respectivo.
- ◆ Ao sair, você entregará ao fiscal a folha de respostas e este caderno.
- ◆ Até que você saia do prédio, todas as proibições e orientações continuam válidas.

AGUARDE A ORDEM DO FISCAL PARA ABRIR ESTE CADERNO.

Nome do candidato _____

RG _____

Inscrição _____

Prédio _____

Sala _____

Carteira _____

LÍNGUA PORTUGUESA

Leia o texto, para responder às questões de números **01** a **12**.

Dizer não com clareza é uma das primeiras habilidades adquiridas pelos seres humanos. No início da vida, muito antes de aprenderem a falar, os bebês já são capazes de deixar claro que estão descontentes com a temperatura da água do banho, ou que já saciaram a fome e não querem mais mamar. Nada disso, no entanto, impede que, quando cresçam, muitas pessoas sejam incapazes de negar um pedido, não importa de onde venha. A maioria, pelo jeito: estudo conduzido pelo departamento de psicologia comportamental da prestigiada Universidade Cornell, nos Estados Unidos, concluiu que as pessoas são mais afeitas a dizer sim do que não. Ao longo de quinze anos, a pesquisadora Vanessa Bohns realizou experimentos sociais com cerca de 15 000 pessoas, seguindo um mesmo roteiro: sua equipe abordava estranhos na rua e pedia que fizessem alguma coisa inesperada.

A dificuldade de negar ajuda ou pedido tem raízes na pré-história, quando se percebeu que as chances de sobrevivência eram maiores se as pessoas se organizassem em bandos e colaborassem umas com as outras do que se vagassem sozinhas por ambientes inóspitos e cheios de perigo. “Agindo em conjunto, a humanidade se mostrou capaz de obter ganhos para sua sobrevivência. Por isso, se uma pessoa lhe pede um favor, a reação natural é colaborar com ela”, explica Ariovaldo Silva Júnior, neurocientista da UFMG. Nos tempos modernos, esse condicionamento virou, em algumas pessoas, motivo de enorme angústia, sintoma de um distúrbio conhecido como ansiedade de insinuação. O problema se manifesta cada vez que o indivíduo se vê, de alguma forma, forçado a fazer algo que não quer, apenas para não se sentir rejeitado pelos pares. Albert Einstein, um dos mais brilhantes angustiados, escreveu: “Toda vez que diz sim querendo dizer não, morre um pedaço de você”.

(Matheus Deccache e Ricardo Ferraz, Palavrinha difícil. *Veja*, 23.02.2022. Adaptado)

01. De acordo com elementos do texto, a tendência a não negar está associada

- (A) à necessidade de satisfazer o outro.
- (B) à certeza de receber aprovação moral.
- (C) ao caráter agregador do ser humano.
- (D) à expectativa de desenvolver ansiedade.
- (E) ao receio de ter de fazer algo inesperado.

02. Segundo o texto,

- (A) coagido a fazer algo indesejado, o indivíduo pode desenvolver uma patologia.
- (B) a opção por viver em bandos fez desenvolver-se nos homens a tendência ao egoísmo.
- (C) o sentimento de rejeição pelos pares pode levar o indivíduo a negar alguma coisa.
- (D) para vencer ambientes não acolhedores, os indivíduos se negam a fazer favores.
- (E) desde o princípio dos tempos, a união para enfrentar perigos afastou a angústia e a ansiedade.

03. O texto se vale de recurso que confere credibilidade às informações que apresenta ao leitor. Trata-se

- (A) da citação de pesquisas e de declarações de pessoas com referências acadêmicas.
- (B) da menção a eventos desconhecidos do leitor, de forma a produzir o reconhecimento da veracidade.
- (C) do resgate de elementos históricos com fonte identificada no próprio desenvolvimento do texto.
- (D) da manifestação de pontos de vista dos autores, já que o fato de escreverem para uma revista os torna confiáveis.
- (E) do apelo à sensibilidade do leitor, recordando fatos que este não pôde vivenciar na infância.

Para responder às questões de números **04** e **05**, considere a seguinte passagem do primeiro parágrafo.

Nada disso, **no entanto**, impede que, quando cresçam, muitas pessoas sejam incapazes de negar um pedido, não importa de onde venha.

04. A expressão destacada expressa o sentido de


- (A) conclusão e pode ser substituída por **logo**.
- (B) concessão e pode ser substituída por **ademais**.
- (C) consequência e pode ser substituída por **portanto**.
- (D) restrição e pode ser substituída por **assim sendo**.
- (E) contrariedade e pode ser substituída por **todavia**.

05. Assinale a alternativa que substitui o trecho destacado em – não importa **de onde venha** –, atendendo à norma-padrão de regência e conjugação verbal, independentemente do sentido do texto.

- (A) aonde more
- (B) onde procede
- (C) aonde está
- (D) aonde vá
- (E) onde se dirija

06. A substituição do trecho destacado na passagem do primeiro parágrafo – ... sua equipe abordava estranhos na rua e **pedia que fizessem** alguma coisa inesperada. – está de acordo com a norma-padrão de emprego e colocação dos pronomes em:
- (A) exigia-os fazer
 - (B) os ordenava fazer
 - (C) lhes convidava a fazer
 - (D) recomendava eles fazer
 - (E) lhes solicitava fazer
07. O trecho destacado na passagem do segundo parágrafo – Por isso, **se uma pessoa lhe pede** um favor, a reação natural é colaborar com ela. – está corretamente redigido e preserva o sentido original em:
- (A) caso uma pessoa lhe peça
 - (B) desde que uma pessoa lhe pedir
 - (C) a menos que uma pessoa lhe peça
 - (D) se caso uma pessoa lhe peça
 - (E) exceto se uma pessoa lhe pedir
08. A função sintática do trecho destacado em – Albert Einstein, **um dos mais brilhantes angustiados**, escreveu... – é de
- (A) objeto direto.
 - (B) predicativo do sujeito.
 - (C) aposto.
 - (D) complemento nominal.
 - (E) adjunto adnominal.
09. Observe a acentuação das palavras **início**, **bebês**, **raízes**, **inóspitos**, e assinale a alternativa que apresenta, pela ordem, as palavras acentuadas segundo as mesmas regras de acentuação dessas.
- (A) incrível, você, saúde, líquido
 - (B) intempérie, até, saída, intrépido
 - (C) cínico, amém, cuíca, gênio
 - (D) constância, sabê-lo, ríspido, catástrofe
 - (E) hífen, lê, bíceps, inícios
10. Assinale a alternativa em que os verbos estão empregados de acordo com a norma-padrão.
- (A) Toda vez que dizer sim querendo dizer não, morrerá um pedaço de você.
 - (B) Nada disso, talvez, impedia que, quando cresceram, muitas pessoas eram incapazes de negar um pedido.
 - (C) Muitas pessoas serão incapazes de dizer não, não importa de onde os pedidos virem.
 - (D) Se agir em conjunto e obter ganhos, a humanidade se mostrará capaz de sobreviver.
 - (E) O problema se manifestará cada vez que o indivíduo se vir, de alguma forma, forçado a fazer algo que não queira.
11. Assinale a alternativa em que a função sintática das orações destacadas (I) e (II) nas passagens a seguir está corretamente identificada.
- ... não querem mais (I) **mamar**. (primeiro parágrafo)
- A dificuldade de (II) **negar ajuda ou pedido** tem raízes na pré-história (segundo parágrafo)
- (A) (I) objeto direto; (II) complemento nominal.
 - (B) (I) complemento nominal; (II) objeto direto.
 - (C) (I) objeto direto; (II) objeto indireto.
 - (D) (I) sujeito; (II) complemento nominal.
 - (E) (I) objeto indireto; (II) sujeito.
12. A alternativa em que o termo “se”, em destaque no enunciado, está presente em uma construção de voz passiva é:
- (A) ... cada vez que o indivíduo **se** vê, de alguma forma, forçado a fazer algo...
 - (B) ... a humanidade **se** mostrou capaz de obter ganhos para sua sobrevivência.
 - (C) ... apenas para não **se** sentir rejeitado pelos pares.
 - (D) ... quando **se** percebeu que as chances de sobrevivência eram maiores...
 - (E) Por isso, **se** uma pessoa lhe pede um favor, a reação natural é colaborar com ela.

Leia a tira, para responder à questão.



(Çiça, Pagando o pato)

13. É correto concluir que o efeito de sentido da tira está centrado

- (A) na desconexão entre as falas da personagem, as quais se contradizem.
- (B) na conclusão precipitada acerca do que deve ser realmente temido.
- (C) na ambiguidade gerada pela polissemia de um vocábulo.
- (D) no duplo sentido da expressão verbal “estou temendo”.
- (E) na hesitação da personagem em se decidir pela palavra certa.

Leia o texto, para responder às questões de números 14 a 18.

Ainda alcancei a geração que cedia o lugar às senhoras grávidas. Se uma delas tomava o bonde, três, quatro ou cinco jovens se arremessavam. E a boa e ofegante senhora tinha seu canto, tinha seu espaço. E, quando ia pagar a passagem, dizia o luso condutor por trás dos bigodões: “Já está paga, já está paga!”.

E assim, num simples gesto, temos o perfil, o retrato, a alma do antigo jovem. Hoje, não. Outro dia, fui testemunha auditiva e ocular de um episódio patético. Vinha eu, em pé, num ônibus apinhado. Passageiros amassados uns contra os outros. Essa promiscuidade abjeta desumanizava todo mundo. O sujeito perdia a noção da própria identidade e tinha uma sensação de bicho engradado. Pois bem. E, de repente, o ônibus para, e entra, exatamente, uma senhora grávida. Oitavo ou nono mês.

O ônibus estava vibrante, rumoroso de jovens estudantes. Imaginei que esses latagões^(*) iam dar uns dez lugares à *mater* recém-chegada. Pois bem. Ninguém se mexeu e, repito, ninguém piou. E foi aí que percebi subitamente tudo. Ali estava uma nova geração, sem nenhuma semelhança com as anteriores. Durante meia hora a pobre mulher ficou em pé, no meio da passagem. Faço uma ideia das cambalhotas que não virou o filho. Eis o que importa destacar: – ela viajou e desceu, e não teve a caridade de ninguém.

(Nelson Rodrigues, Jovens imbecilizados pelos velhos. *O óbvio ululante*: primeiras confissões. Adaptado)

(*) latagões: homens jovens, robustos e de grande estatura.

14. É correto afirmar que, do ponto de vista do narrador,

- (A) os jovens de sua geração mostravam-se mais sensíveis às necessidades de outrem do que os do episódio que comenta.
- (B) esperava-se que os jovens no ônibus pudessem ser menos patéticos se viajassem em pé.
- (C) os jovens de todos os tempos são afeitos à prática de gestos de empatia e respeito.
- (D) não é possível comparar as atitudes dos jovens, pois o tempo promove mudanças culturais.
- (E) a atenção às mulheres grávidas sempre esteve presente no comportamento das pessoas.

15. A passagem do texto em que todas as palavras estão empregadas em sentido próprio é:

- (A) Ninguém se mexeu e, repito, ninguém piou.
- (B) E, quando ia pagar a passagem, dizia o luso condutor por trás dos bigodões...
- (C) O ônibus estava vibrante, rumoroso de jovens estudantes.
- (D) Se uma delas tomava o bonde, três, quatro ou cinco jovens se arremessavam.
- (E) E foi aí que percebi subitamente tudo.

16. No contexto em que se encontra, a frase do segundo parágrafo – Essa promiscuidade abjeta – sinaliza atitude de

- (A) indiferença implícita do narrador em relação aos passageiros viajando amassados.
- (B) desaprovação contundente do narrador às condições em que viajavam os passageiros.
- (C) indiferença explícita do narrador em relação aos passageiros viajando amassados.
- (D) indignação contida do narrador em relação à desumanização das pessoas em geral.
- (E) desaprovação moderada do narrador ao amontoado de pessoas no ônibus.

17. Considere a passagem do primeiro parágrafo: Se uma delas tomava o bonde, três, quatro ou cinco jovens se arremessavam. E a boa e ofegante senhora tinha seu canto, tinha seu espaço.

Do ponto de vista semântico, a oração iniciada pela conjunção “E” introduz informação cuja noção é, em relação à oração precedente, de

- (A) concessão.
- (B) consequência.
- (C) modo.
- (D) restrição.
- (E) condição.

18. Assinale a alternativa que explica corretamente o emprego da vírgula na passagem do primeiro parágrafo – E, de repente, o ônibus para, e entra, exatamente, uma senhora grávida.

- (A) Nas expressões “de repente” e “exatamente”, bem como entre os verbos “parar” e “entrar”, as vírgulas têm o mesmo emprego: isolar adjuntos adverbiais.
- (B) Na expressão “de repente”, a vírgula isola aposto; em “exatamente”, isola adjunto adverbial; entre os verbos “parar” e “entrar”, a vírgula separa orações com sujeitos diferentes.
- (C) Nas expressões “de repente” e “exatamente”, a vírgula isola adjuntos adverbiais; entre os verbos “parar” e “entrar”, a vírgula separa orações com sujeitos diferentes.
- (D) Nas expressões “de repente” e “exatamente”, a vírgula isola adjuntos adnominais; entre os verbos “entrar” e “parar”, ela sinaliza a união de orações em sequência.
- (E) Na expressão “de repente”, a vírgula é usada para isolar adjunto adverbial; em “exatamente” ela isola o aposto; entre os verbos “parar” e “entrar”, ela separa orações com o mesmo sujeito.

Leia o poema, para responder às questões de números 19 e 20.

O homem vigia.
Dentro dele, estumados (*),
uivam os cães da memória.
Aquele noite, o luar
e o vento no cipó-prata e ele,
o medo a cavalo nele
ele a cavalo em fuga
das folhas do cipó-prata.
A mãe no fogão cantando,
os zangões, a poeira, o ar anímico.
Ladra seu sonho insone,
em saudade, vinagre e doçura.

(Adélia Prado, *Insônia. Reunião de poesia.*)

(*) Estumados: atçados, provocados

19. É correto afirmar que o poema sugere que o eu lírico está

- (A) lamentando a falta de perspectiva de seu futuro.
- (B) vivendo situações aflitivas provocadas pelo uivo de cães.
- (C) buscando a oportunidade de visitar lugares desconhecidos.
- (D) recompondo imagens e lembranças de sua existência.
- (E) sonhando com perspectivas de uma vida de liberdade.

20. É correto afirmar que, no poema, a expressão é marcada pela presença de

- (A) referências metafóricas, que se mostram em frases como – uivam os cães da memória.
- (B) catacreses, que se mostram em frases como – em saudade, vinagre e doçura.
- (C) comparações insólitas, que se mostram em frases como – os zangões, a poeira.
- (D) construções pleonásticas, que se mostram em frases como – Ladra seu sonho insone.
- (E) onomatopeias, que se mostram em frases como – A mãe no fogão cantando.

Leia o texto, para responder à questão.

A providência, em seus inescrutáveis desígnios, tinha assentado dar a esta cidade um benefício grande; e nenhum lhe pareceu maior nem melhor do que certo gozo superfino, espiritual e grave, que patenteasse a brandura dos nossos costumes e a graça das nossas maneiras: deu-nos os touros.

Talvez poucas pessoas se lembrem de que há bons vinte e cinco anos ou mais, creio que mais, houve uma tentativa de tauromaquia nesta cidade.

(Machado de Assis, *Notas semanais. Obra completa*)

21. Assinale a alternativa que contém apreciação correta de fatos linguísticos do texto.

- (A) Na passagem – dar a **esta cidade** um benefício grande –, a substituição da expressão destacada por pronome resulta em – dá-la um benefício grande. (1º parágrafo)
- (B) A palavra “inescrutáveis” tem como sinônimo “insondáveis”; a palavra “brandura” tem como antônimo “rigidez”. (1º parágrafo)
- (C) Colocando-se no plural o trecho – houve uma tentativa –, a forma correta será – houveram umas tentativas. (2º parágrafo)
- (D) Na passagem – e nenhum lhe pareceu maior nem melhor – o pronome **lhe** também pode ser colocado depois do verbo. (1º parágrafo)
- (E) A substituição do verbo “haver” por “fazer” em – há bons vinte e cinco anos – resulta em – fazem bons vinte e cinco anos. (2º parágrafo)

22. Assinale a alternativa em que os sinais indicativos de crase estão empregados de acordo com a norma-padrão.

- (A) Foi comunicado à todas as seções que os adiantamentos de salário estão suspensos, até à próxima semana.
- (B) Serão destinados recursos à populações desabrigadas, com especial atenção às crianças.
- (C) Os depoimentos serão colhidos de segunda à sexta-feira, exigida à presença da autoridade competente.
- (D) Está definido que à partir da próxima semana os documentos serão enviados à matriz, para arquivamento.
- (E) A preferência no atendimento será dada àquelas pessoas que fizeram agendamento pelo site, como convém à ordem dos trabalhos.

23. Assinale a alternativa em que todas as palavras estão corretamente grafadas.

- (A) Pode-se considerar excessão haver processos paralizados nesse setor.
- (B) O solo excessivamente umidecido não favorece o plantio desse tipo de milho.
- (C) Não se considera privilégio o bônus, já que é concessão por mérito.
- (D) Desafetos desde a juventude, os parlamentares se degladiam durante as seções da Câmara.
- (E) Um parecer abalisado deve ser solicitado afim de dirimir as dúvidas.

Para responder à questão, considere o texto seguinte.

Assim que for retomado o atendimento presencial, nós vamos estar fazendo um mutirão para atender preferencialmente os pacientes prioritários que já colocaram sua rubrica no formulário.

24. Os vícios de linguagem que podem ser identificados nesse texto são

- (A) ambiguidade, preciosismo e pleonasma.
- (B) gerundismo, ambiguidade e preciosismo.
- (C) gerundismo, solecismo e pleonasma.
- (D) gerundismo, pleonasma e barbarismo.
- (E) ambiguidade, cacofonia e barbarismo.

NOÇÕES DE LÓGICA

25. Considere a afirmação:

'As camisas estão passadas e os sapatos não estão engraxados'.

Uma afirmação que corresponde à negação lógica desta, é:

- (A) As camisas não estão passadas ou os sapatos estão engraxados.
- (B) As camisas não estão passadas e os sapatos estão engraxados.
- (C) As camisas estão passadas ou os sapatos estão engraxados.
- (D) Ou as camisas estão passadas ou os sapatos não estão engraxados.
- (E) As camisas não estão passadas e os sapatos não estão engraxados.

26. A sequência a seguir foi criada com um padrão lógico e é ilimitada.

1, 3, 5, 7, 10, 11, 13, 15, 17, 20, 21, 23, 25, 27, 30, 31, 33, 35, 37, 40, 41, ...

Identifique os seguintes números que pertencem a esta sequência:

- O número que antecede o 90.
- O número que é o sucessor do 127.
- O número que antecede o 503.

A soma desses três números identificados apresenta como algarismo da unidade, o algarismo

- (A) 9.
- (B) 6.
- (C) 3.
- (D) 1.
- (E) 8.

27. Foi realizada uma enquete em que se deveria assinalar com um **X** o alimento que a pessoa respondente comia:

Brócolis Jiló

Foram 63 pessoas que responderam a enquete. Brócolis foi assinalado 42 vezes; Jiló, 44 vezes; e todas as pessoas assinalaram pelo menos um dos alimentos.

O número dessas pessoas que come apenas um desses alimentos é igual a

- (A) 47.
- (B) 40.
- (C) 54.
- (D) 51.
- (E) 43.

28. A partir das afirmações:

'Todo estudioso tem muito conhecimento'

'Algumas pessoas que têm muito conhecimento são geniais'

É correto concluir que

- (A) qualquer estudioso é genial.
- (B) nenhum genial tem muito conhecimento.
- (C) todos que tem muito conhecimento são estudiosos.
- (D) algum genial tem muito conhecimento.
- (E) todo genial é estudioso.

29. Esta sequência de figuras é cíclica com 8 elementos em cada ciclo e é ilimitada.



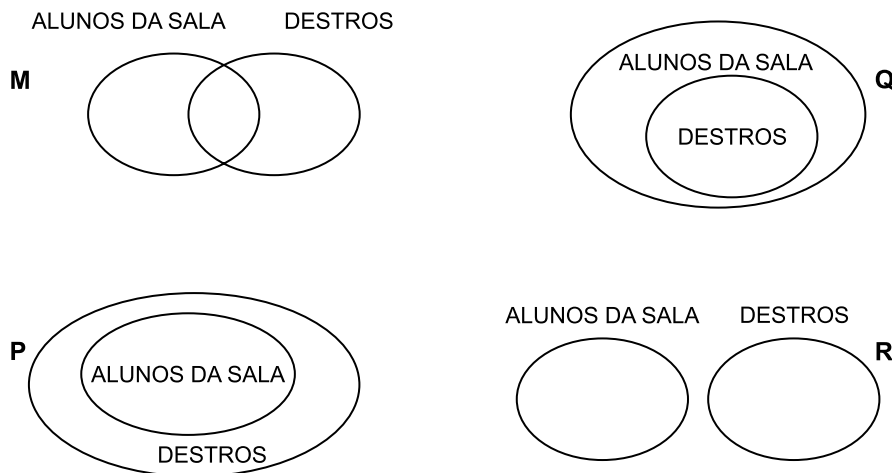
As figuras que estão nas posições de 106 a 109 formam a sequência que está na alternativa

- (A)
- (B)
- (C)
- (D)
- (E)

30. Considere as afirmações:

- I. Todos os alunos da sala são destros.
- II. Alguns alunos da sala são destros.
- III. Nenhum aluno da sala é destro.

Observe as representações por meio de diagramas lógicos:



A alternativa que corretamente relaciona cada afirmação com uma das representações propostas é

- (A) I e M; II e Q; III e R.
- (B) I e Q; II e P; III e M.
- (C) I e R; II e M; III e P.
- (D) I e Q; II e R; III e M.
- (E) I e P; II e M; III e R.

31. Assinale a alternativa que apresenta uma afirmação logicamente equivalente à seguinte afirmação:

'Ameaça chuva e saio com capa ou, ameaça chuva e saio com guarda-chuva'

- (A) Ameaça chuva ou não saio com capa e saio com guarda-chuva.
- (B) Ameaça chuva e, saio com capa ou saio com guarda-chuva.
- (C) Se não ameaça chuva, saio com capa e não saio com guarda-chuva.
- (D) Ameaça chuva ou saio com capa ou saio com guarda-chuva.
- (E) Não ameaça chuva e não saio com capa ou saio com guarda-chuva.

32. Considere as afirmações:

- I. Se Ana é delegada, então Bruno é escrivão.
- II. Se Carlos é investigador, então Bruno não é escrivão.
- III. Se Denise é papiloscopista, então Eliane é perita criminal.
- IV. Se Eliane é perita criminal, então Carlos é investigador.
- V. Denise é papiloscopista.

A partir dessas afirmações, é correto concluir que

- (A) Bruno é escrivão ou Eliane não é perita criminal.
- (B) Se Denise é papiloscopista, então Ana é delegada.
- (C) Carlos não é investigador e Ana é delegada.
- (D) Ana não é delegada ou Bruno é escrivão.
- (E) Eliane não é perita criminal e Carlos é investigador.

33. Assinale a alternativa que apresenta uma negação lógica da seguinte afirmação:

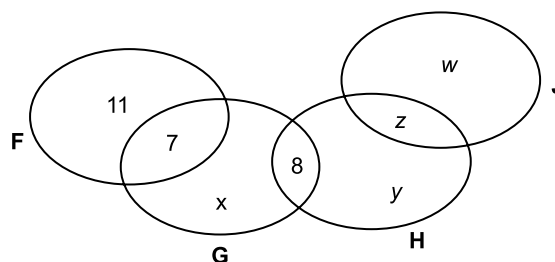
'Se o indivíduo é um contraventor, então não resta esperança para ele'

- (A) O indivíduo não é um contraventor, e resta esperança para ele.
- (B) Se resta esperança para ele, então o indivíduo não é um contraventor.
- (C) O indivíduo é um contraventor, e resta esperança para ele.
- (D) Se não resta esperança para ele, então o indivíduo é um contraventor.
- (E) Resta esperança para ele, ou o indivíduo não é um contraventor.

34. A sequência numérica: 1000, 900, 801, 703, 606, 510, ..., foi criada com um padrão. O número 92 não faz parte dessa sequência. O número da sequência que é mais próximo do número 92 ocupa, na sequência, a posição de número

- (A) 8.
- (B) 11.
- (C) 9.
- (D) 12.
- (E) 10.

35. O diagrama mostra a distribuição de pessoas em relação aos atributos F, G, H e J. Sabe-se que, em todos os atributos, há o mesmo número de pessoas.



A soma $x + y + z + w$ pode ser igual a

- (A) 20.
- (B) 37.
- (C) 25.
- (D) 17.
- (E) 32.

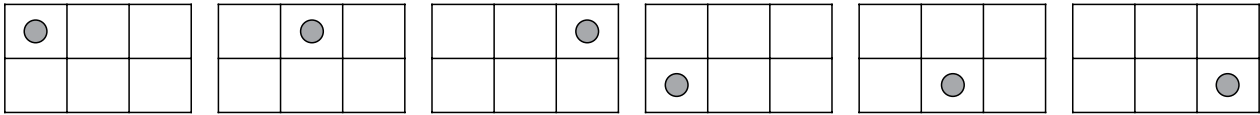
36. Considere N, P, Q, R e T afirmações simples para as afirmações compostas apresentadas a seguir. Considere também o valor lógico atribuído a cada uma das afirmações compostas.

- I. Se N, então P. Esta é uma afirmação FALSA.
- II. Se Q, então R. Esta é uma afirmação FALSA.
- III. Se P, então T. Esta é uma afirmação VERDADEIRA.

A partir dessas informações, é correto concluir que

- (A) N e R é uma afirmação VERDADEIRA.
- (B) Se R, então N é uma afirmação FALSA.
- (C) Se Q, então T é uma afirmação FALSA.
- (D) Q ou T é uma afirmação VERDADEIRA.
- (E) P e Q é uma afirmação VERDADEIRA.

37. A seguir estão os seis primeiros termos de uma sequência cíclica desses seis termos, infinita, em que cada termo é um quadriculado com uma bolinha.



Identifique os termos das posições de número 32, 47 e 64. Se as bolinhas desses termos fossem colocadas em um único quadriculado, nas respectivas posições em que ocorrem, o quadriculado resultante seria

- (A)
- (B)
- (C)
- (D)
- (E)

38. Assinale a alternativa que apresenta uma afirmação logicamente equivalente à seguinte afirmação:

'Se os catadores coletaram todas as latinhas, então a sacola arrebenta ou fica pesada'

- (A) A sacola arrebenta ou fica pesada e os catadores coletaram todas as latinhas.
- (B) Se a sacola não arrebenta e não fica pesada, então os catadores não coletaram todas as latinhas.
- (C) Se a sacola arrebenta e não fica pesada, então os catadores coletaram todas as latinhas.
- (D) Se a sacola não arrebenta e fica pesada, então os catadores não coletaram todas as latinhas.
- (E) Os catadores coletaram todas as latinhas e a sacola arrebenta e fica pesada.
39. Para abrilhantar uma festa na empresa, inscreveram-se 122 pessoas. As habilidades necessárias para a inscrição eram: saber cantar, tocar algum instrumento musical, saber dançar. Cinco pessoas disseram que tinham as 3 habilidades. Um número x de pessoas declarou ter apenas uma dessas habilidades, isto em cada uma delas. Declararam possuírem duas e apenas duas habilidades um número y de pessoas, isto em cada par de habilidades. Sabendo que x é exatamente o dobro de y , o número de pessoas que dizem que sabem cantar ou dançar é igual a
- (A) 81.
- (B) 91.
- (C) 86.
- (D) 65.
- (E) 96.

40. Para realizar um treinamento, as pessoas envolvidas foram separadas em 4 grupos distintos: K com 9 participantes, L com 13 participantes, M com 12 participantes e N com 15 participantes. Os participantes dos grupos K e L, ficaram reunidos juntos na sala 1, e o mesmo aconteceu com os participantes dos grupos M e N na sala 2. Será retirada, aleatoriamente, certa quantidade de pessoas da sala 1, de modo a se ter certeza de que, pelo menos, duas dessas pessoas sejam do grupo L. Será também retirada, da sala 2, certa quantidade de pessoas, de modo a se ter certeza de que, pelo menos, três dessas pessoas sejam do grupo N. Sendo assim, o número total de pessoas a serem retiradas das duas salas será igual a

- (A) 5.
- (B) 21.
- (C) 30.
- (D) 26.
- (E) 13.

NOÇÕES DE DIREITO E DE CRIMINOLOGIA

41. Nos termos da Constituição Federal, é correto afirmar que a República Federativa do Brasil, formada pela união indissolúvel dos Estados e Municípios e do Distrito Federal, constitui-se em Estado Democrático de Direito e tem, entre outros, como fundamento:

- (A) a garantia do desenvolvimento nacional.
- (B) a dignidade da pessoa humana.
- (C) a promoção do bem de todos, sem preconceitos de origem, raça, sexo, cor e idade.
- (D) a construção de uma sociedade livre, justa e solidária.
- (E) a erradicação da pobreza e da marginalização.

42. Instrumento por meio do qual os Estados Partes das Nações Unidas que aderirem e ratificarem assumem o compromisso de respeitar e garantir a todos os indivíduos que se achem em seu território e que estejam sujeitos a sua jurisdição os direitos reconhecidos, sem discriminação alguma por motivo de raça, cor, sexo, língua, religião, opinião política ou de outra natureza, origem nacional ou social, situação econômica, nascimento ou qualquer condição. O instrumento reconhece o direito à vida; a não ser submetido à tortura ou penas ou tratamento cruéis, desumanos ou degradantes; a não ser submetido à escravidão e ao tráfico de escravos; à liberdade e segurança pessoal; à livre circulação; à igualdade perante tribunais e cortes de justiça; à liberdade de pensamento, de consciência e de religião e de expressão; entre outros. A primeira parte do documento é constituída por apenas um artigo que se refere ao Direito à Autodeterminação. Na segunda parte, fala-se de como os Estados aplicarão o instrumento. Na terceira parte, encontra-se o elenco dos direitos. Estes são os chamados “direitos de primeira geração”, ou seja, as liberdades individuais e garantias procedimentais de acesso à justiça e participação política. Na quarta parte, prevê-se a instituição do Comitê dos Direitos do Homem. Por último, na quinta parte, dispõe-se regras de interpretação; e, na sexta parte, regras sobre a entrada em vigor e vinculação dos Estados.

É correto afirmar que o enunciado refere-se

- (A) à Convenção Interamericana Para Prevenir, Punir e Erradicar a Violência Contra a Mulher “Convenção de Belém do Pará”.
- (B) à Convenção Americana sobre Direitos Humanos (Pacto de São José da Costa Rica).
- (C) à Convenção Internacional sobre a Eliminação de todas as Formas de Discriminação Racial.
- (D) a Convenções e Tratados Internacionais sobre Direitos Humanos.
- (E) ao Pacto Internacional sobre Direitos Civis e Políticos.

43. É um instrumento internacional entre os países-membros da Organização dos Estados Americanos (OEA) e que foi subscrito durante a Conferência Especializada Interamericana de Direitos Humanos, em 22 de novembro de 1969. Entrou em vigor em 18 de julho de 1978, sendo atualmente uma das bases do sistema interamericano de proteção dos Direitos Humanos. Consagra diversos direitos civis e políticos, entre outros, o direito ao reconhecimento da personalidade jurídica, o direito à vida, à integridade pessoal, à liberdade pessoal e garantias judiciais, à proteção da honra e reconhecimento à dignidade, à liberdade religiosa e de consciência, à liberdade de pensamento e de expressão, e o direito de livre associação.
- É correto afirmar que o enunciado refere-se
- (A) a Convenção sobre a Eliminação de Todas as Formas de Discriminação contra a Mulher.
 - (B) ao Estatuto de Roma.
 - (C) à Convenção Internacional sobre a Eliminação de todas as Formas de Discriminação Racial.
 - (D) à Convenção Americana sobre Direitos Humanos (Pacto de São José da Costa Rica).
 - (E) à Declaração Universal dos Direitos Humanos.
44. Considerando as disposições relativas ao concurso de pessoas e de crimes, constantes do Código Penal, assinale a alternativa correta.
- (A) Praticado o crime em coautoria, todos que concorreram à prática delitiva serão punidos de forma idêntica. Apenas ao que, comprovadamente, quis participar de crime menos grave, ser-lhe-á aplicada a pena deste.
 - (B) O crime continuado só é reconhecido quando em causa crimes da mesma espécie, assim considerados os de idêntico tipo penal.
 - (C) No caso de concurso formal, se a ação ou omissão é dolosa e os crimes concorrentes resultam de desígnios autônomos, as penas serão aplicadas cumulativamente.
 - (D) A participação, na modalidade de instigação, é punida, ainda que o crime não chegue a ser, ao menos, tentado.
 - (E) No caso de participação de menor importância, a critério do Juiz, a pena pode deixar de ser aplicada.
45. Assinale a alternativa correta sobre crimes contra a dignidade sexual.
- (A) A conduta de manter relação sexual com pessoa desacordada, por ingestão de álcool, incapaz de oferecer resistência, caracteriza o crime de estupro, artigo 213, do Código Penal, qualificado pela especial condição de vulnerabilidade da vítima.
 - (B) O crime de importunação sexual, artigo 215-A, do Código Penal, é de natureza subsidiária, restando caracterizado somente se o ato libidinoso praticado não constituir crime mais grave.
 - (C) A prática de conjunção carnal com menor de 14 anos, se consentida, não caracteriza o crime de estupro de vulnerável, artigo 217-A, do Código Penal, se comprovado que a vítima já mantinha vida sexual ativa anteriormente.
 - (D) A conduta de registrar ato sexual sem autorização dos participantes, artigo 216-B, do Código Penal, só é punível se houver divulgação a terceiros, por qualquer meio.
 - (E) A conduta de manter estabelecimento destinado à prática de exploração sexual, artigo 229, do Código Penal, é atípica, caso não haja participação de criança e adolescente.
46. Com relação aos crimes contra a saúde pública e os crimes contra a paz pública, é correto afirmar que o crime de
- (A) falsificação, corrupção, adulteração ou alteração de substância ou produtos alimentícios tem por objeto material também bebidas alcoólicas.
 - (B) epidemia inadmitte a modalidade culposa.
 - (C) associação criminosa quando há participação de criança, adolescente ou pessoa com a capacidade cognitiva reduzida tem pena aumentada até a metade.
 - (D) incitação a crime é punido de forma qualificada se há incitação de animosidade entre as Forças Armadas ou delas contra os poderes constitucionais.
 - (E) infração de medida sanitária é próprio de profissional de saúde.

47. Tício, técnico em manutenção de equipamentos, de forma imperita, instalou, em sua própria casa, suporte de ar-condicionado não compatível com o peso do aparelho que, passados poucos dias da instalação, desprendeuse da parede, vindo a atingir seu próprio filho, que brincava no quintal. A criança, atingida na cabeça, teve traumatismo craniano, com seqüela de convulsões periódicas.
- Haja vista a situação hipotética, assinale a alternativa correta.
- (A) Tício praticou o crime de lesão corporal culposa, com causa de aumento em razão de a vítima ser criança, nos exatos termos do parágrafo 7º, do artigo 129, CP.
 - (B) Tício praticou o crime de lesão corporal, de natureza grave, nos termos do parágrafo 1º, do artigo 129, CP.
 - (C) Tício praticou o crime de lesão corporal, nos exatos termos do “caput”, do artigo 129, do CP.
 - (D) A Tício, dadas as circunstâncias, é possível a aplicação de perdão judicial, nos exatos termos do parágrafo 8º, do artigo 129, CP.
 - (E) Tício praticou o crime de lesão corporal culposa, de natureza grave, nos exatos termos do artigo 129, parágrafo 6º, do CP.
48. Tendo em conta as disposições referentes à Ação Penal contidas no Código de Processo Penal, assinale a alternativa correta.
- (A) Na ação penal de iniciativa privada, restará perempta a ação se, uma vez iniciada, o querelante deixar de promover o andamento do processo por 30 dias seguidos ou não.
 - (B) O direito à representação, sendo personalíssimo da vítima, extingue-se com a morte dela.
 - (C) Sendo a vítima a União, a ação penal será sempre pública, independentemente do crime praticado.
 - (D) Em se tratando de ação penal de iniciativa privada, a renúncia do direito à queixa em favor de um dos autores do crime a todos aproveitará, mas o perdão concedido a um não se estende aos demais.
 - (E) Nos crimes de ação penal pública condicionada à representação, uma vez oferecida pela vítima, será ela irretratável.
49. A respeito do acordo de não persecução penal, assinale a alternativa correta.
- (A) O acordo de não persecução penal é firmado entre o acusado, o Ministério Público e o Juiz, não participando, no entanto, o ofendido.
 - (B) A vítima será intimada da celebração do acordo de não persecução penal, mas não do descumprimento.
 - (C) A renúncia voluntária a bens e direitos indicados pelo Ministério Público como proveitos do crime é uma das condições que podem ser ajustadas no acordo de não persecução penal.
 - (D) O acordo de não persecução penal é cabível a crimes sem violência ou grave ameaça com pena mínima inferior a 04 anos, não se considerando, para aferição de tal critério, as causas de aumento ou diminuição aplicáveis ao caso concreto.
 - (E) O acordo de não persecução penal é cabível ao agente ainda que já beneficiado com suspensão condicional do processo nos 05 anos anteriores ao cometimento da infração.
50. Com relação à prisão e medidas cautelares diversas da prisão, de acordo com o Código de Processo Penal, é correto afirmar que
- (A) a substituição da prisão preventiva pela prisão domiciliar deverá sempre ser acompanhada pela imposição de outras medidas cautelares diversas à prisão.
 - (B) a Autoridade Policial poderá conceder fiança nos casos de infração cuja pena privativa de liberdade máxima não seja superior a 04 anos e, uma vez verificando a impossibilidade econômica do preso, poderá sujeitá-lo, em substituição, a outras medidas cautelares alternativas.
 - (C) a não realização de audiência de custódia no prazo de 48 horas, contado da prisão em flagrante, ensejará sua ilegalidade e imediato relaxamento, restando vedada a posterior decretação de prisão preventiva.
 - (D) a medida cautelar de proibição de acesso ou frequência a determinados lugares pode ser determinada pela Autoridade Policial, sempre que, por circunstâncias relacionadas ao fato, deva o investigado permanecer distante.
 - (E) o descumprimento de obrigações impostas por força de medidas cautelares diversas da prisão poderá ensejar a decretação de prisão preventiva.

51. Mévio, enquanto conduzia veículo automotor em via urbana, ao fazer curva, veio a perder o controle da direção, atingindo pedestres que se encontravam na calçada. Dois dos pedestres não se machucaram, mas o terceiro acabou tendo a perna amputada. Mévio submeteu-se ao exame de bafômetro, não sendo detectada a ingestão de álcool. A perícia técnica, por sua vez, apurou que a velocidade do veículo conduzido por Mévio era de pelo menos 100 km/h, sendo o limite de velocidade permitido na via 40 km/h. Diante da situação hipotética, assinale a alternativa correta.
- (A) Tendo praticado crime de lesão corporal, na condução de veículo automotor, Mévio poderá ter suspensão, cautelarmente, a habilitação para dirigir veículo automotor.
 - (B) Uma vez que Mévio não estava sob a influência de álcool, tendo praticado lesão corporal culposa, nos exatos termos do art. 291, parágrafo primeiro e incisos do CTB, a composição civil dos danos implicará renúncia ao direito de representação.
 - (C) Tendo praticado crime de lesão corporal, previsto no artigo 302, do CTB, se condenado, além da pena privativa de liberdade, Mévio poderá ter suspensão a habilitação para dirigir veículo automotor no limite máximo de dois anos.
 - (D) Uma vez que Mévio não estava sob influência de álcool, tendo praticado lesão corporal culposa, nos exatos termos do art. 291, parágrafo primeiro e incisos do CTB, é aplicável o instituto da transação penal (art. 76, da Lei nº 9.099/95).
 - (E) Uma vez que Mévio não estava sob influência de álcool, tendo praticado lesão corporal culposa, nos exatos termos do art. 291, parágrafo primeiro e incisos do CTB, a ação penal é pública condicionada à representação.
52. Com relação ao Estatuto do Idoso, na parte que trata dos crimes, assinale a alternativa correta.
- (A) Os crimes neles previstos, quando implicam prejuízo patrimonial, admitem o perdão judicial previsto no artigo 181, do Código Penal.
 - (B) Impedir ou dificultar o acesso a operações bancárias ao idoso caracteriza o crime de discriminação de pessoa idosa, previsto no art. 96, ainda que a negativa de crédito seja motivada por situação de superendividamento do idoso.
 - (C) O crime de deixar de prestar assistência ao idoso, previsto no art. 97, será punido de forma triplicada, se da omissão resultar a morte.
 - (D) Os crimes nele previstos são de ação penal pública incondicionada, exceto quanto ao crime de exibir ou veicular, por qualquer meio, informações ou imagens depreciativas do idoso, que é condicionado à representação.
 - (E) Os crimes neles previstos são processáveis pelo rito sumaríssimo da Lei nº 9.099/95, aplicando-se, ainda, os institutos da transação penal e reparação civil.
53. Tendo em conta a Lei de Repressão à Lavagem de Dinheiro, é correto afirmar que
- (A) as medidas assecuratórias nela previstas podem ser decretadas pelo Juiz, a requerimento do Ministério Público e mediante representação do Delegado de Polícia, mas não de ofício.
 - (B) são efeitos da condenação, além dos previstos no Código Penal, a perda, em favor da União, ainda que de competência Estadual, dos bens, direitos ou valores relacionados à prática do crime de lavagem de dinheiro.
 - (C) admite-se a utilização da ação controlada e da infiltração de agentes na apuração do crime de lavagem de dinheiro somente se cometido por intermédio de organização criminosa.
 - (D) o autor que colaborar espontaneamente com as autoridades, prestando informações que levem à apuração de infrações, a identificações de autores ou à localização de bens, poderá ter a pena reduzida ou mesmo perdoada pelo Juiz.
 - (E) o crime de lavagem de dinheiro admite tentativa, mas, por expressa determinação legal, é punida de forma diferenciada à prevista no art. 14 do Código Penal.
54. A respeito da Lei dos Crimes Hediondos, assinale a alternativa correta.
- (A) O crime de posse ou porte ilegal de arma de fogo de uso permitido e de uso proibido é equiparado a hediondo.
 - (B) O homicídio, previsto no “caput” do art. 121 do Código Penal, se praticado em atividade típica de grupo de extermínio, ainda que cometido por um único agente, é considerado crime hediondo.
 - (C) Os crimes considerados hediondos são insuscetíveis de graça, anistia, fiança e liberdade provisória.
 - (D) O roubo circunstanciado pelo emprego de arma branca é considerado crime hediondo.
 - (E) São considerados hediondos apenas os crimes consumados, excluídos os tentados.

55. A respeito do instituto jurídico das autarquias, é correto afirmar:

- (A) em razão da descentralização que enseja a criação da autarquia, fica afastada a responsabilidade do Estado por eventuais danos gerados por essas pessoas jurídicas.
- (B) os contratos realizados pela autarquia seguem o regime jurídico administrativo, razão pela qual gozam da prerrogativa das cláusulas exorbitantes, não extensíveis aos contratados.
- (C) as autarquias desenvolvem atividades típicas de Estado e são criadas por lei ordinária específica, podendo ser extintas por ato normativo editado pelo Poder Executivo.
- (D) o controle externo sobre uma autarquia não pode ser feito pela entidade da Administração Direta que a criou, pois não é subordinada a nenhum órgão do Estado.
- (E) as autarquias submetem-se ao controle externo realizado pelos Tribunais de Contas e pelo Poder Judiciário, mas não podem ser objeto de controle externo pelo cidadão, via ação popular.

56. Na seara dos poderes administrativos, o poder de polícia é instituto de grande relevância na sistemática do Direito Administrativo. Sobre a matéria, assinale a alternativa correta.

- (A) O fundamento jurídico para o exercício do poder de polícia é o princípio da preponderância do interesse público sobre o particular, que dá à Administração posição de hegemonia sobre os administrados.
- (B) São exemplos de atos da polícia administrativa fiscalizadora, a dissolução de uma reunião subversiva e o fechamento de estabelecimento comercial aberto sem observância das regras sanitárias.
- (C) No tocante aos atributos do poder de polícia, pode-se dizer que são vinculados e que possuem autoexecutoriedade e coercibilidade.
- (D) Os atos expressivos do Poder Público, dentre eles a polícia administrativa, podem ser delegados a particulares, em decorrência da aplicação do princípio do equilíbrio social.
- (E) A polícia administrativa repressiva pode ser exercida por meio de atos normativos, como regulamentos e portarias, que são disposições que delimitam a atividade do particular.

57. A teoria sociológica da criminalidade denominada “Tolerância Zero” defende a ideia de que

- (A) as ações policiais devem ser complacentes com os pequenos delitos, tais como pichações e perturbações de sossego.
- (B) as decisões por parte das autoridades policiais, diante de um ilícito, devem ser tomadas com base na discricionariedade, conveniência e oportunidade.
- (C) a redução dos índices criminais dar-se-á por mínima intervenção, com máximas garantias.
- (D) a repressão à desordem e a pequenos delitos produzirá, a médio prazo, diminuição dos índices criminais de maior impacto social, tais como crimes violentos contra a vida e dignidade sexual.
- (E) sua meta principal é a atribuição de punições a executivos do alto escalão da sociedade, políticos e empresários, independentemente da culpa individual do infrator ou da situação peculiar que se encontre.

58. Assinale a alternativa correta.

- (A) A Criminalística é o conjunto sistemático de princípios e estratégias utilizados pelo Estado na prevenção do delito.
- (B) A Infortunistica é a ciência que estuda o sistema penitenciário.
- (C) A Penologia é um segmento da medicina legal que estuda as doenças e os acidentes do trabalho.
- (D) A Etiologia Criminal é a ciência que estuda o comportamento da vítima perante o seu agressor, sob o ponto de vista do controle social.
- (E) A Vitimologia é o estudo do ofendido, de sua personalidade e de seu grau de vulnerabilidade no evento criminoso.

59. Para García-Pablos de Molina, são os três pilares do sistema das ciências criminais, em relação de interdependência:
- (A) a Psiquiatria Forense, a Política Criminal e a Criminologia.
 - (B) a Psiquiatria Forense, a Sociologia e a Política Criminal.
 - (C) o Direito Penal, a Sociologia e a Criminologia.
 - (D) a Sociologia, o Direito Penal e a Psiquiatria Forense.
 - (E) a Criminologia, a Política Criminal e o Direito Penal.
60. A polícia, como instituição de controle social, possui três atribuições principais, a saber: a função administrativa, a investigativa e a judiciária. A esse respeito, assinale a alternativa correta.
- (A) As guardas municipais são órgãos policiais de ciclo completo.
 - (B) As polícias penais possuem atribuições de polícia judiciária.
 - (C) A Polícia Federal é um órgão policial de ciclo completo.
 - (D) As polícias militares possuem a atribuição de apurar a autoria e a materialidade de crime comum.
 - (E) As polícias civis possuem atribuições de polícia ostensiva.
61. Diversos sistemas operacionais, como o Windows 10, possuem o recurso Área de Transferência. Nesse sistema operacional, o usuário pode fixar um item na Área de Transferência, ação que
- (A) provoca o seu compartilhamento em nuvem, permitindo a sua cópia a um outro computador.
 - (B) impede que ele seja removido do histórico da Área de Transferência para dar espaço a novos itens.
 - (C) cria uma tecla de atalho para o item fixado.
 - (D) o torna o único item da Área de Transferência, não permitindo a inclusão de novos itens até que a fixação seja removida.
 - (E) determina o tamanho máximo que ele poderá ocupar.
62. O sistema operacional Windows 10 permite que alguns de seus arquivos permaneçam ocultos. Normalmente, esses arquivos são
- (A) de programas de instalação executados pelo usuário, e que podem ser reutilizados em caso de problemas.
 - (B) de atualização do sistema operacional, que podem ser utilizados para a reversão de uma atualização que apresentar problemas.
 - (C) de estatística de problemas do sistema operacional, enviados periodicamente à Microsoft para melhorias.
 - (D) relacionados com sistema operacional e ficam ocultos, pois, caso sofram alterações, podem danificar esse sistema.
 - (E) temporários associados ao uso do computador, e que são removidos sempre que o computador é desligado.
63. As pastas podem receber diversos tipos de nome, desde que algumas regras sejam obedecidas. Em relação ao sistema operacional Windows 10, a alternativa que apresenta apenas nomes de pastas válidos é:
- (A) Pagamentos-Março e Recebimentos\Janeiro
 - (B) Funcionários/Contratados e Funcionários_Demitidos
 - (C) Textos Diversos? e Textos Classificados!
 - (D) Aula&1 e Exercícios Corrigidos!
 - (E) Contratos Assinados* e Contratos Pendentes...
64. Um tipo de tecnologia de impressora que vem ganhando destaque no mercado é o que utiliza tanque. Sobre as impressoras com essa tecnologia, tem-se que podem ser encontradas no mercado, atualmente, impressoras do tipo
- (A) *laser* para impressão em preto e branco e colorida, apenas.
 - (B) *laser* para impressão em preto e branco, apenas.
 - (C) jato de tinta para impressão em preto e branco, apenas.
 - (D) jato de tinta para impressão em preto e branco e colorida, apenas.
 - (E) *laser* para impressão em preto e branco, e jato de tinta para impressão em preto e branco e colorida.

NOÇÕES DE INFORMÁTICA

61. Diversos sistemas operacionais, como o Windows 10, possuem o recurso Área de Transferência. Nesse sistema operacional, o usuário pode fixar um item na Área de Transferência, ação que
- (A) provoca o seu compartilhamento em nuvem, permitindo a sua cópia a um outro computador.
 - (B) impede que ele seja removido do histórico da Área de Transferência para dar espaço a novos itens.
 - (C) cria uma tecla de atalho para o item fixado.
 - (D) o torna o único item da Área de Transferência, não permitindo a inclusão de novos itens até que a fixação seja removida.
 - (E) determina o tamanho máximo que ele poderá ocupar.
62. O sistema operacional Windows 10 permite que alguns de seus arquivos permaneçam ocultos. Normalmente, esses arquivos são
- (A) de programas de instalação executados pelo usuário, e que podem ser reutilizados em caso de problemas.
 - (B) de atualização do sistema operacional, que podem ser utilizados para a reversão de uma atualização que apresentar problemas.
 - (C) de estatística de problemas do sistema operacional, enviados periodicamente à Microsoft para melhorias.
 - (D) relacionados com sistema operacional e ficam ocultos, pois, caso sofram alterações, podem danificar esse sistema.
 - (E) temporários associados ao uso do computador, e que são removidos sempre que o computador é desligado.
63. As pastas podem receber diversos tipos de nome, desde que algumas regras sejam obedecidas. Em relação ao sistema operacional Windows 10, a alternativa que apresenta apenas nomes de pastas válidos é:
- (A) Pagamentos-Março e Recebimentos\Janeiro
 - (B) Funcionários/Contratados e Funcionários_Demitidos
 - (C) Textos Diversos? e Textos Classificados!
 - (D) Aula&1 e Exercícios Corrigidos!
 - (E) Contratos Assinados* e Contratos Pendentes...
64. Um tipo de tecnologia de impressora que vem ganhando destaque no mercado é o que utiliza tanque. Sobre as impressoras com essa tecnologia, tem-se que podem ser encontradas no mercado, atualmente, impressoras do tipo
- (A) *laser* para impressão em preto e branco e colorida, apenas.
 - (B) *laser* para impressão em preto e branco, apenas.
 - (C) jato de tinta para impressão em preto e branco, apenas.
 - (D) jato de tinta para impressão em preto e branco e colorida, apenas.
 - (E) *laser* para impressão em preto e branco, e jato de tinta para impressão em preto e branco e colorida.

65. Comparando-se as unidades de armazenamento externo para computadores de tecnologia HD e SSD, tem-se que, tipicamente,

- (A) os SSDs permitem transferência de dados com maior rapidez do que os HDs.
- (B) o custo por *bit* de armazenamento dos HDs é mais alto do que o dos SSDs.
- (C) o SSD é mais sensível às vibrações do computador (ventilador, digitação etc.) do que os HDs.
- (D) a vida útil média de um HDs é de 3000 ciclos de gravação, enquanto que a de um SSD é de 200 000 ciclos.
- (E) os HDs, mesmo possuindo partes móveis, são mais resistentes, pois possuem redundância, o que não ocorre com os SSDs.

66. Considere o texto entre aspas a seguir, presente em um documento que está sendo editado no editor de texto MS-Word 2016, em português e em sua configuração padrão.

“Em uma observação mais apurada, percebeu-se que havia evidências claras mostrando que a porta do carro, do lado do passageiro, tinha sido arrombada.”

Suponha que a palavra “claras” desse texto tenha sido completamente selecionada, clicando-se com o botão esquerdo do *mouse* (em sua configuração padrão) no início da palavra, arrastando o *mouse* até o final da palavra, e soltando esse botão nesse momento.

Caso, a seguir, o usuário clique no botão denominado Tachado, do grupo Fonte, guia Página Inicial, a aparência dessa mesma palavra ficará da seguinte forma:

- (A) claras
- (B) claras
- (C) ~~claras~~
- (D) CLARAS
- (E) **claras**

67. No editor de texto MS-Word 2016, em português e em sua configuração padrão, um usuário clicou no botão Formas, do grupo Ilustrações, presente na guia Inserir do aplicativo.

Assinale a alternativa que contém elementos disponíveis para inserção no documento por meio desse recurso.

- (A) WordArt, SmartArt e FreeArt.
- (B) Gráficos de Linha, Gráficos de Colunas e Pizzas.
- (C) Linhas, Retângulos e Formas básicas.
- (D) Fotos, Sons e Filmes.
- (E) Tabelas, Caixas de Texto e Comentários.

68. Deseja-se, em um documento criado no editor de texto MS-Word 2016, em português e em sua configuração padrão, criar colunas. Por meio do botão Colunas, acessível no grupo Configurar Página da guia Layout, na janela que se abre ao se escolher “Mais colunas...”, pode-se utilizar recursos práticos para a configuração das colunas. Dois desses recursos diretamente disponíveis são:

- (A) Marca d'água das colunas e Cor de fundo das colunas.
- (B) Largura das colunas e Visualização das colunas em 3D.
- (C) Cor de fundo das colunas e Espessura de borda das colunas.
- (D) Linha entre colunas e Colunas de mesma largura.
- (E) Estilo de borda das colunas e Animação de fundo das colunas.

69. No editor de texto MS-Word 2016, em português e em sua configuração padrão, o usuário selecionou a opção Imprimir, por meio da guia Arquivo. Na tela que se abre, no item Configurações, o primeiro botão permite selecionar a opção Impressão Personalizada, que possibilita, por exemplo, a impressão

- (A) somente das figuras do documento.
- (B) de intervalos específicos de páginas do documento.
- (C) no modo rascunho e no modo normal.
- (D) do documento em um tipo de papel especial.
- (E) em baixa, média e alta qualidade.

70. No editor de planilha eletrônica MS-Excel 2016 (em português e em sua configuração padrão), a seguinte planilha foi elaborada. Nela estão presentes três cotações para alguns itens (caneta, lápis, borracha e apontador), bem como a quantidade de itens que se deseja comprar.

	A	B	C	D	E	F
1		Quantidade	Cotação 1	Cotação 2	Cotação 3	Preço Mínimo
2	Caneta	100	R\$ 1,00	R\$ 1,50	R\$ 1,20	R\$ 100,00
3	Lápis	200	R\$ 0,50	R\$ 0,40	R\$ 0,60	R\$ 80,00
4	Borracha	50	R\$ 0,30	R\$ 0,40	R\$ 0,35	R\$ 15,00
5	Apontador	20	R\$ 3,00	R\$ 2,50	R\$ 3,00	R\$ 50,00

Nessa planilha, as células da coluna F (Preço Mínimo) apresentam fórmulas para calcular, automaticamente, quanto será gasto com a compra de cada item, considerando as quantidades desejadas, e sempre utilizando o valor mínimo cotado para cada item.

Diante do exposto, uma fórmula correta para a célula **F4** é:

- (A) =MÍNIMO(C4-E4)*B4
- (B) =MÍNIMO(C4:E4)*B4
- (C) =MÍNIMO(C4-E4*B4)
- (D) =MÍNIMO[C4-E4*B4]
- (E) =MÍNIMO(C4:E4*B4)

71. No editor de planilha eletrônica MS-Excel 2016 (em português e em sua configuração padrão), pode-se inserir diversos tipos de gráficos. Três desses tipos são:

- (A) Dispersão, Convergência e Caótica.
- (B) Colunas, Linhas e Diagonais.
- (C) Superfície, 3D e 4D.
- (D) Ações, Ferramentas e Suplementos.
- (E) Pizza, Barras e Área.

72. Um texto estava sendo digitado dentro de uma célula do editor de planilha eletrônica MS-Excel 2016 (em português e em sua configuração padrão). Para que seja forçada a mudança de linha em um texto em edição, dentro da mesma célula, deve-se digitar o texto e, a seguir, pressionar uma tecla e, com ela ainda pressionada, pressionar uma segunda tecla. Dessa forma, para forçar a mudança de linha dentro de uma célula do MS-Excel 2016, deve-se pressionar a tecla

- (A) Alt seguida de um Enter.
- (B) Shift seguida de um Alt.
- (C) Tab seguida de um Alt.
- (D) Ctrl seguida de um Enter.
- (E) Shift seguida de um Enter.

73. Ao se preparar uma mensagem por meio do *software* de correio eletrônico Gmail, na janela correspondente, é exibido o seguinte botão:



Ao se clicar na seta para baixo, exibida nesse botão, é possível

- (A) excluir destinatários da mensagem.
- (B) anexar arquivos à mensagem.
- (C) programar o envio da mensagem.
- (D) inserir outros destinatários à mensagem.
- (E) cancelar o envio da mensagem.

74. Um usuário de correio eletrônico preparou uma mensagem e anexou um arquivo .docx, criptografado com uma senha. Para que o destinatário da mensagem possa abrir e examinar o conteúdo do arquivo, ele deve

- (A) enviar a mensagem para um endereço especial da Microsoft para obter a liberação remota do acesso ao arquivo.
- (B) baixar o arquivo recebido e obter a senha para abri-lo, por meio do envio de uma mensagem para um *site* centralizado da Microsoft.
- (C) baixar o arquivo recebido em uma pasta especial do computador, que possui a propriedade de quebrar senhas de seus arquivos.
- (D) baixar e salvar o arquivo recebido em uma pasta especial do computador e enviar mensagem ao remetente da mensagem para liberar remotamente a criptografia do arquivo.
- (E) baixar o arquivo recebido, abri-lo com o Microsoft Word e digitar a senha desse arquivo, que deve ter sido previamente combinada com o remetente da mensagem.

75. Um usuário do *software* de correio eletrônico Gmail clicou no seguinte botão presente em sua barra de ferramentas:



O efeito dessa ação é

- (A) arquivar mensagem.
- (B) denunciar *spam*.
- (C) mover para uma pasta.
- (D) marcar uma mensagem como não lida.
- (E) selecionar mensagem.

76. Uma forma bastante utilizada de comunicação é o VoIP (Voz sobre IP), que apresenta como característica:

- (A) não apresentar qualquer perda de pacotes originados da transformação da voz em dados digitais, ao trafegar pela Internet.
- (B) utilizar a rede convencional de telefonia, buscando circuitos menos congestionados.
- (C) transformar a voz, que é um sinal analógico, em um sinal digital, e transmitir ou trafegar esse sinal digital pela Internet.
- (D) ter um custo de utilização muito superior ao custo da telefonia tradicional por centrais telefônicas tradicionais comutadas.
- (E) a qualidade de voz, que não é afetada por questões de perdas de pacotes de voz e pelo efeito denominado *jitter*.

77. Alguns navegadores possuem o modo anônimo (ou navegação privada), que apresenta como algumas de suas características:
- (A) permitir navegar na internet como se fosse um novo visitante em cada *site* acessado, pois, ao término da navegação, serão removidas do computador as informações sobre a navegação realizada, como histórico de navegação e de pesquisas, *cookies*, etc.
 - (B) substituir o *e-mail* do usuário por outro fictício e inexistente, para evitar que, futuramente, o usuário receba *spams* relacionados a *sites* que foram visitados em navegações realizadas.
 - (C) remover as permissões concedidas a *sites* após o usuário sair das janelas de navegação anônima, mantendo as informações inseridas em formulários para facilitar o uso futuro.
 - (D) não salvar, ao sair de todas as janelas de navegação anônima, o histórico de páginas visitadas, mantendo apenas os *cookies* e outros dados associados à navegação.
 - (E) limitar o acesso a informações e recursos dos *sites*, por questões de segurança, impedindo a execução de programas e *downloads*, abertura de vídeos e a ativação de *links*.
78. Visando aumentar a proteção e a segurança dos computadores, diversas ferramentas *antimalware* podem ser utilizadas, como as *antirootkit*, que visam impedir que
- (A) um programa execute, além das funções para as quais foi aparentemente projetado, outras funções, normalmente maliciosas, e sem o conhecimento do usuário.
 - (B) um conjunto de programas e técnicas escondam e assegurem a presença de um invasor ou de outro código malicioso em um computador comprometido.
 - (C) sejam capturadas e armazenadas as teclas digitadas pelo usuário no teclado do computador.
 - (D) sejam capturadas e armazenadas posições do cursor e a tela apresentada no monitor, nos momentos em que o *mouse* é clicado, ou a região que circunda a posição onde o *mouse* é clicado.
 - (E) um programa se instale para permitir o retorno de um invasor a um computador comprometido, por meio da inclusão de serviços criados ou modificados para este fim.
79. No mundo da Internet, mais recentemente têm vindo à tona dois termos a ela relativos, ou seja, *deepweb* e *darkweb*, sobre os quais é correto afirmar que
- (A) os *sites* da *deepweb* utilizam o domínio *.onion*.
 - (B) *deepweb* e *darkweb* são duas denominações que endereçam ao mesmo conteúdo da Internet.
 - (C) o *site Silk Road* tinha seu acesso por meio da *deepweb*.
 - (D) não há navegadores que consigam acessar a *darkweb*.
 - (E) a *darkweb* não tem seus *sites* indexados por navegadores convencionais como Google Chrome ou Firefox.
80. A utilização de aplicativos de videoconferências é cada vez mais intensa, sendo correto afirmar que os *softwares* aplicativos para a realização de videoconferências oferecem diversas alternativas, sendo certo que:
- (A) não é possível habilitar que participantes da videoconferência possam exibir ou apresentar, por exemplo, uma apresentação do PowerPoint.
 - (B) o convite para a participação em uma videoconferência deve ser enviado, exclusivamente, por intermédio de aplicativos com tal especialização.
 - (C) além da comunicação por vídeo e áudio, é possível o envio de mensagens escritas por meio do recurso de *chat*.
 - (D) em uma videoconferência, não é possível aos participantes desativar seus microfones e câmeras.
 - (E) algumas das plataformas mais utilizadas para videoconferências são Quick Time Player e Safari.

